



سَلْطَنَةُ عَمَانَ
وَدَارَةُ التَّرْبِيَةِ وَالتَّحْلِيلِ

امتحان دبلوم التعليم العام
للعام الدراسي ١٤٣٨/١٤٣٩ هـ - ٢٠١٧ / ٢٠١٨ م
الدور الأول - الفصل الدراسي الأول

- تنبيه:** • المادة: الدراسات الاجتماعية (هذا وطني في العراقة والمجد).
• الأسئلة في (١٥) صفحة.
• زمن الإجابة: ثلاث ساعات.
• الإجابة في الورقة نفسها.

تعليمات مهمة:

- يجب على الممتحن التأكد من استلام دفتر امتحانه، مغلفاً بغلاف بلاستيكي شفاف وغير ممزق ، وهو مسؤول عنه حتى يسلمه لمراقبي اللجنة بعد الانتهاء من الإجابة.
 - يجب إحضار أصل ما يثبت الهوية وإبرازها للعاملين بالامتحانات.
 - يجب الالتزام بالزي (الدشداشة البيضاء والمصر أو الكمة للذكور) والزي المدرسي للطالبات ، ويستثنى من ذلك الدارسون من غير العمانيين بشرط الالتزام بالذوق العام، ويمنع على جميع المتقدمات ارتداء النقاب داخل المركز وقاعات الامتحان.
 - يحظر على الممتحنين اصطحاب الهواتف النقالة وأجهزة النداء الآلي وآلات التصوير والحواسيب الشخصية والساعات الرقمية الذكية والآلات الحاسبة ذات الذاكرة التخزينية والمجلات والصحف والكتب الدراسية والدفاتر والمذكرات والحقائب اليدوية والآلات الحادة أو الأسلحة أياً كان نوعها وأي شيء له علاقة بالامتحان.
 - يجب على الممتحن الامتثال لإجراءات التفتيش داخل المركز طوال أيام الامتحان.
- يجب الالتزام بضوابط إدارة امتحانات دبلوم التعليم العام وما في مستواه وأية مخالفة لهذه الضوابط تعرضك للتدابير والإجراءات والعقوبات المنصوص عليها بالقرار الوزاري رقم ٥٨٨ / ٢٠١٥.
- يقوم المتقدم بالإجابة عن أسئلة الامتحان المقالية بقلم الحبر (الأزرق أو الأسود).
- يقوم المتقدم بالإجابة عن أسئلة الاختيار من متعدد بتظليل الشكل () وفق النموذج الآتي:
- س - عاصمة سلطنة عمان هي:
- القاهرة مسقط
- الدوحة أبوظبي
- ملاحظة: يتم تظليل الشكل () باستخدام القلم الرصاص وعند الخطأ، امسح بعناية لإجراء التغيير.
- صحيح غير صحيح
-

مُسَوِّدَةٌ، لا يتم تصحيحها

أجب عن جميع الأسئلة الآتية

أولاً: الأسئلة الموضوعية

السؤال الأول:

ظلل الشكل (○) المقترن بالإجابة الصحيحة لكل مفردة من المفردات الآتية:

Part 1 Q1 - Q14: MC auto - each 0, 2

(١) العصر الذي بُني فيه مسجد الشواذنة بنزوى:

- النبوي. الراشدي.
 الأموي. العباسي.

(٢) الجدول الصحيح لترتيب الأمة العُمانية من الأقدم إلى الأحدث:

١	الوارث بن كعب
٢	غسان بن عبدالله
٣	الصلت بن مالك
٤	عزان بن تميم

○

١	الصلت بن مالك
٢	غسان بن عبدالله
٣	الوارث بن كعب
٤	عزان بن تميم

○

١	الصلت بن مالك
٢	غسان بن عبدالله
٣	عزان بن تميم
٤	الوارث بن كعب

○

١	عزان بن تميم
٢	غسان بن عبدالله
٣	الوارث بن كعب
٤	الصلت بن مالك

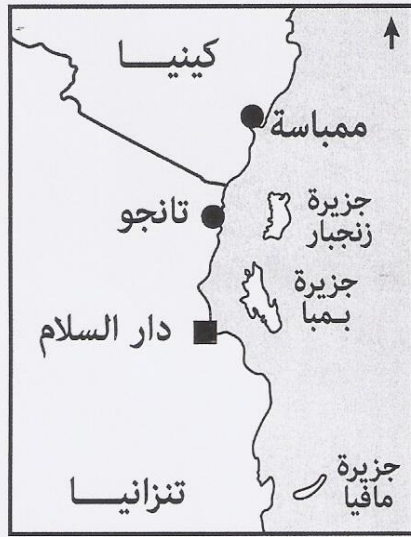
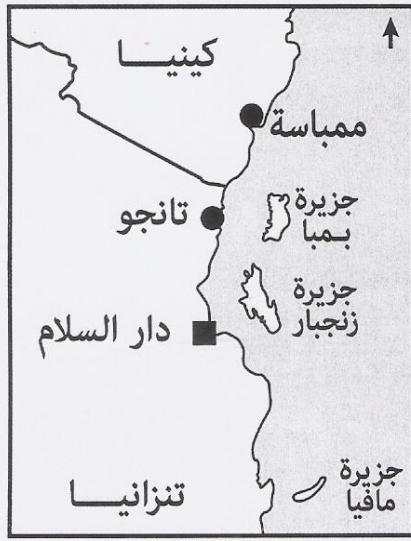
○

PTO

لا تكتب في هذا الجزء

تابع السؤال الأول:

٣) الخريطة التي توضح المواقع الصحيحة للجزر الواقعة على ساحل شرقي أفريقيا:



٤) الوصف الذي ينطبق على أوضاع عُمان في نهاية دولة اليعاربة:

السيطرة البرتغالية على الأجزاء الساحلية.

التفكك وانتشار الحروب الأهلية.

سيادة الأمن والاستقرار.

ازدهار الأسطول التجاري والحربي.

PTO

لا تكتب في هذا الجزء

تابع السؤال الأول:

(٥) الجهة الجغرافية التي تقع بها بلاد الملبيار بالنسبة للدولة المشار إليها بالرقم (١):



- الشمال الشرقي.
- الشمال الغربي.
- الجنوب الشرقي.
- الجنوب الغربي.

(٦) الكائنات الحية الأقل تنوعا في البيئة العمانية:

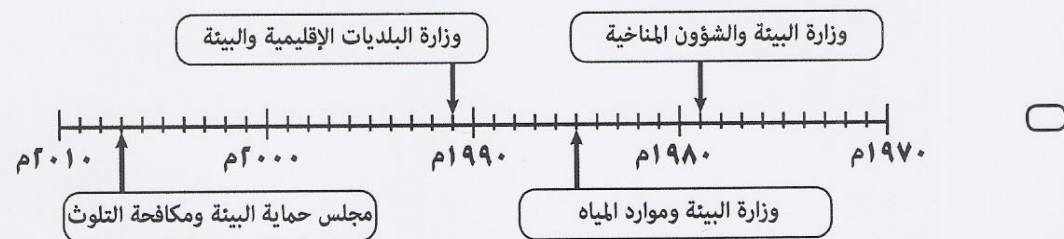
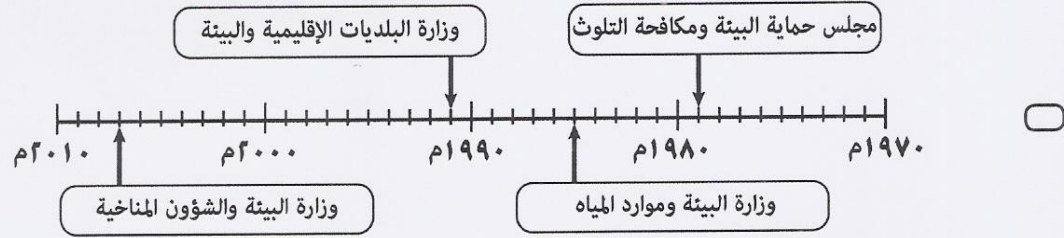
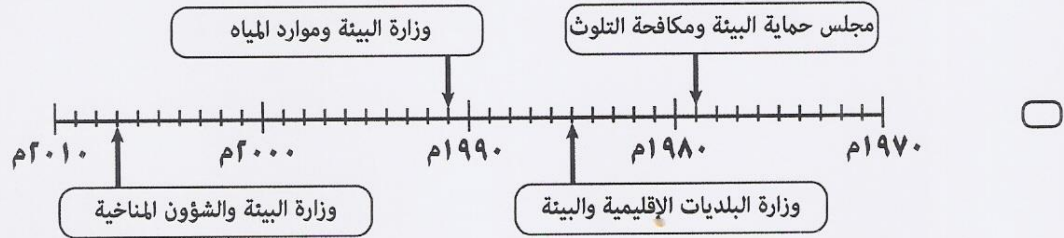
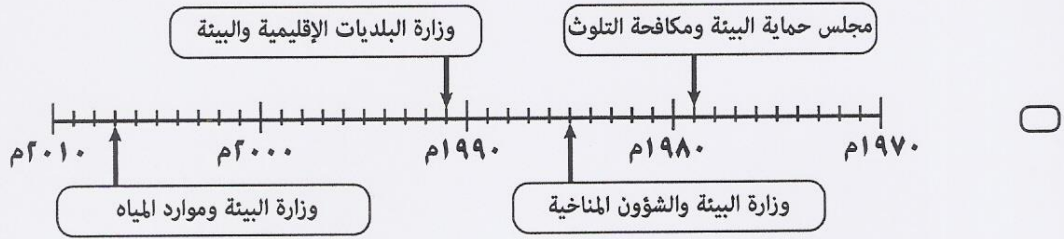
- الفراشات.
- الزواحف.
- المرجان.
- الحيتان.

PTO

لا تكتب في هذا الجزء

تابع السؤال الأول:

٧) المسطرة الزمنية الموضحة للتسلسل الصحيح للبناء المؤسسي للعمل البيئي في سلطنة عمان:



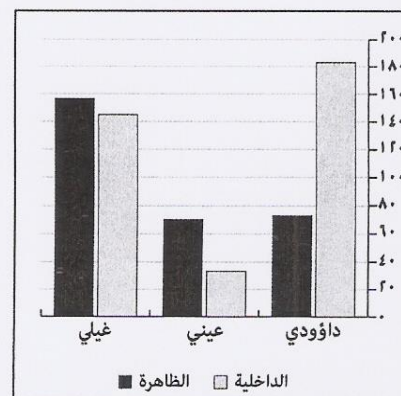
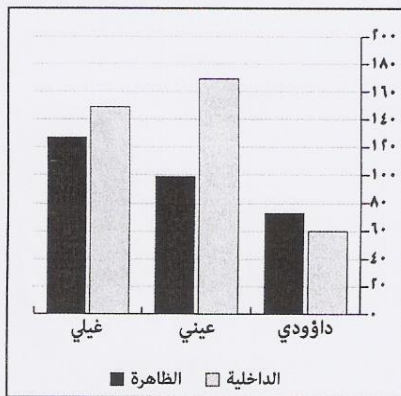
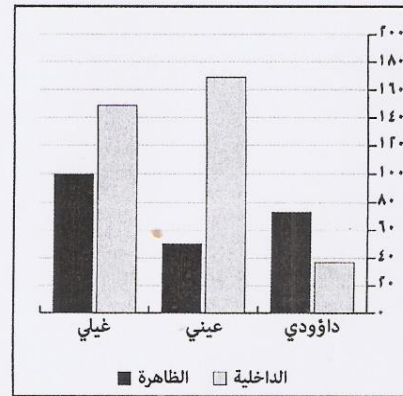
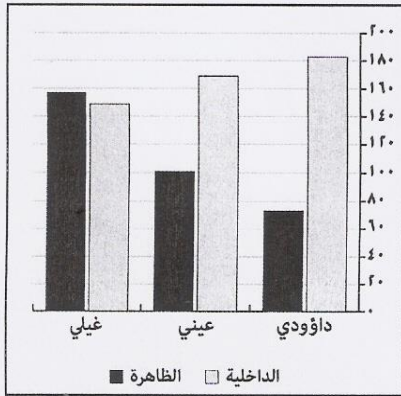
PTO

لا تكتب في هذا الجزء

تابع السؤال الأول:

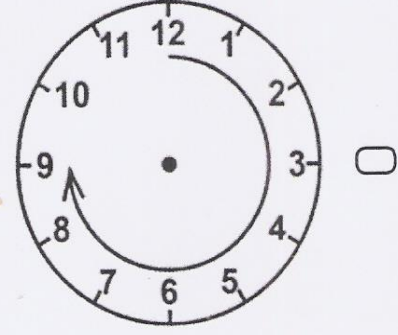
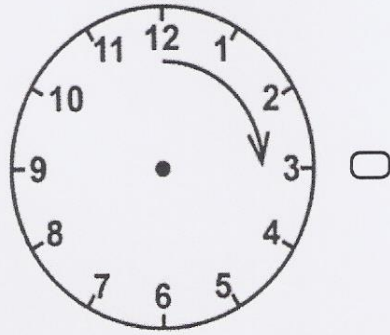
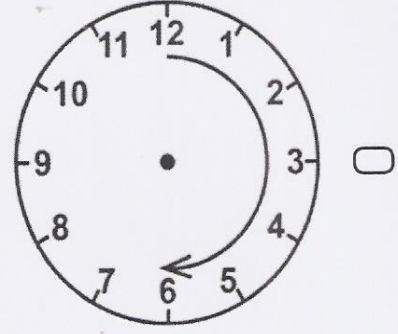
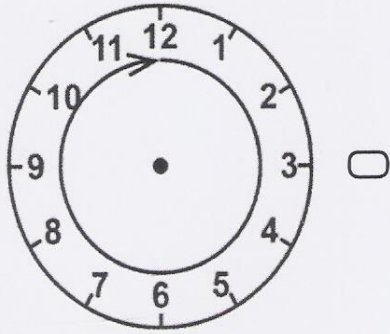
٨) الرسم البياني الممثل لجدول أعداد الأفلاج في محافظتي الداخلية والظاهرة:

المحافظة	نوع الفلج	داؤودي	عيني	غيلي
الداخلية		١٨٣	١٦٩	١٤٩
الظاهرة		٧٣	١٠١	١٥٧



تابع السؤال الأول:

٩) الساعة التي تدل على زمن البداة وفق نظام توزيع حصص مياه الأفلاج في سلطنة عمان:



١٠) الحضارة التي أخذ العُمانيون منها الأرقام الحسابية:

- فارس. الهند.
 مصر. اليونان.

١١) المنظمة التي أعلن فيها صاحب الجلالة السلطان قابوس عن جائزة السلطان قابوس لحماية البيئة:

- الاليسكو. اليونسكو.
 اليونيسيف. الفاو.

PTO

لا تكتب في هذا الجزء

تابع السؤال الأول:

(١٢) العام الميلادي الذي عُقد فيه مؤتمر عمان الدولي للسياحة البيئية:

٢٠٠٤

٢٠٠٣

٢٠٠٦

٢٠٠٥

(١٣) الصورة الدالة على الاتحاد الرياضي العماني الذي حقق منتخبه المركز الرابع عالميا عام ١٩٩٥م:



(١٤) الاستجابة الواعية للتوجهات الفكرية والثقافية والحضارية التي تدعو إلى التجديد والتغيير في مختلف جوانب الحياة:

المعلوماتية.

الحدائثة.

المواطنة.

العولمة.

ثانيا: الأسئلة المقالية:

السؤال الثاني:

Part 2 Q15& Q16: one clip

(١٥) أكتب المصطلح المناسب أمام العبارة الآتية:

قراصنة شديدا البأس انتشروا بسفنهم في مياه الساحل الغربي للهند والسند.	0, 2
---	------

(١٦) أجب عما يأتي:

أ. علل ازدهار الحركة العمرانية في عصر اليعاربة.

0, 2

ب. ما الهدف من عمليات المسح والإحصاء للأنشطة الشبابية المبتدئة عام ١٩٩١م؟

0, 2

Part 2 Q17: one clip

(١٧) "بعث رسول الله صلى الله عليه وسلم رجلا إلى حي من أحياء العرب فسبوه وضربوه، فجاء إلى رسول الله فأخبره، فقال رسول الله: (لو أن أهل عمان أتيت ما سبوك ولا ضربوك)".

أ. ما الدلالة التاريخية لمتن الحديث؟

0, 2

PTO

لا تكتب في هذا الجزء

تابع السؤال الثاني:

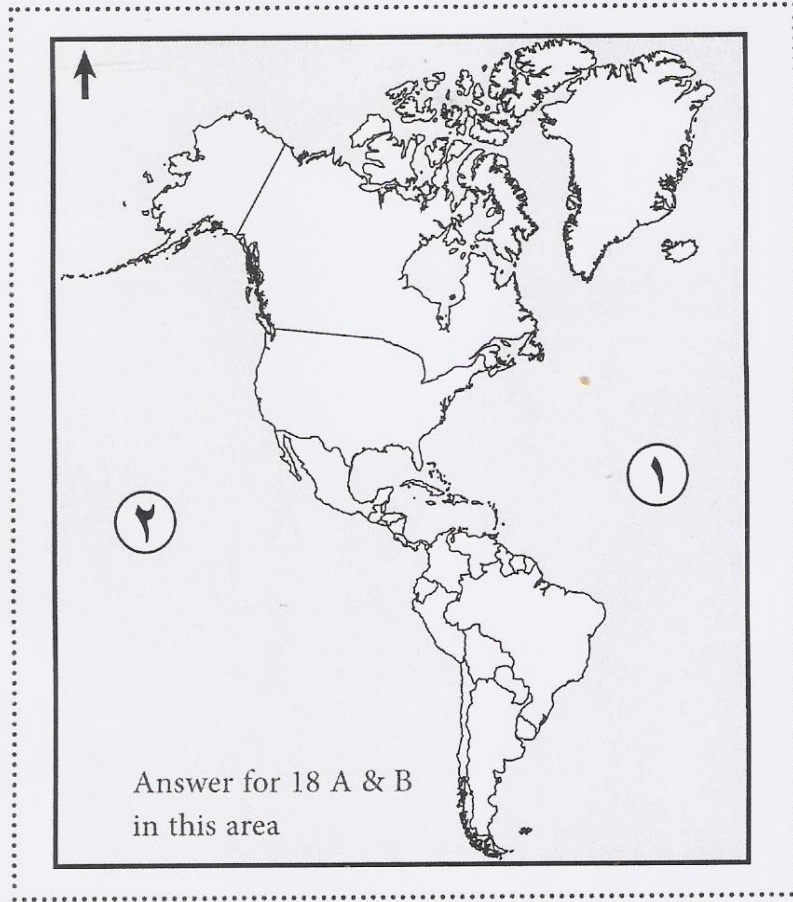
ب. استشهد بحادثة تاريخية تؤكد ما دُلَّ عليه الحديث السابق.

0, 2

لا تكتب في هذا الجزء

Part 2 Q18: one clip

١٨) ادرس الخريطة التالية ثم أجب عن الأسئلة التي تليها:



أ. ظلل الدولة التي يوجد بها معهد البيئة والذي حصل على جائزة السلطان قابوس لحماية البيئة عام ١٩٩١م. 0, 2

ب. اكتب على الخريطة في الموقع الصحيح، اسم الدولة التي شاركت سفينة شباب عمان في احتفالاتها بمرور مئة عام على تمثال الحرية. 0, 1

ج. استخراج الرقم الدال على المحيط الأطلسي 0, 1

لا تكتب في هذا الجزء

السؤال الثالث:

Part 3 Q19: one clip

0, 1, 2, 3, 4


١٩) قارن بين وضع عمان في العصرين: الإسلامي واليعربي كما في الجدول:

العصر اليعربي	العصر الإسلامي	المقارنة
		الإنجازات العسكرية للأسطول
		الحركة العلمية


٢٠) أوجد العلاقة بين مضمون الصورة و(الشخصية/ المصطلح) المرتبط بها: Part 3 Q20: one clip

0, 2, 4

السلطان تيمور بن فيصل



التنشئة الاجتماعية



لا تكتب في هذا الجزء

تابع السؤال الثالث:

Part 3 Q21: one clip

(٢١) اذكر اثنين مما يلي:

أ. البرامج والسياسات المتبعة في سلطنة عمان لإدارة موارد المياه حديثاً.

0, 1, 2

ب. أشكال العولمة.

0, 1, 2

Part 3 Q22&Q23: one clip

(٢٢) "يتميز التنوع الإحيائي في السلطنة بقيمة اقتصادية كبيرة يُعوّل عليها في تنويع مصادر الدخل" دُلّل على صحة هذه العبارة.

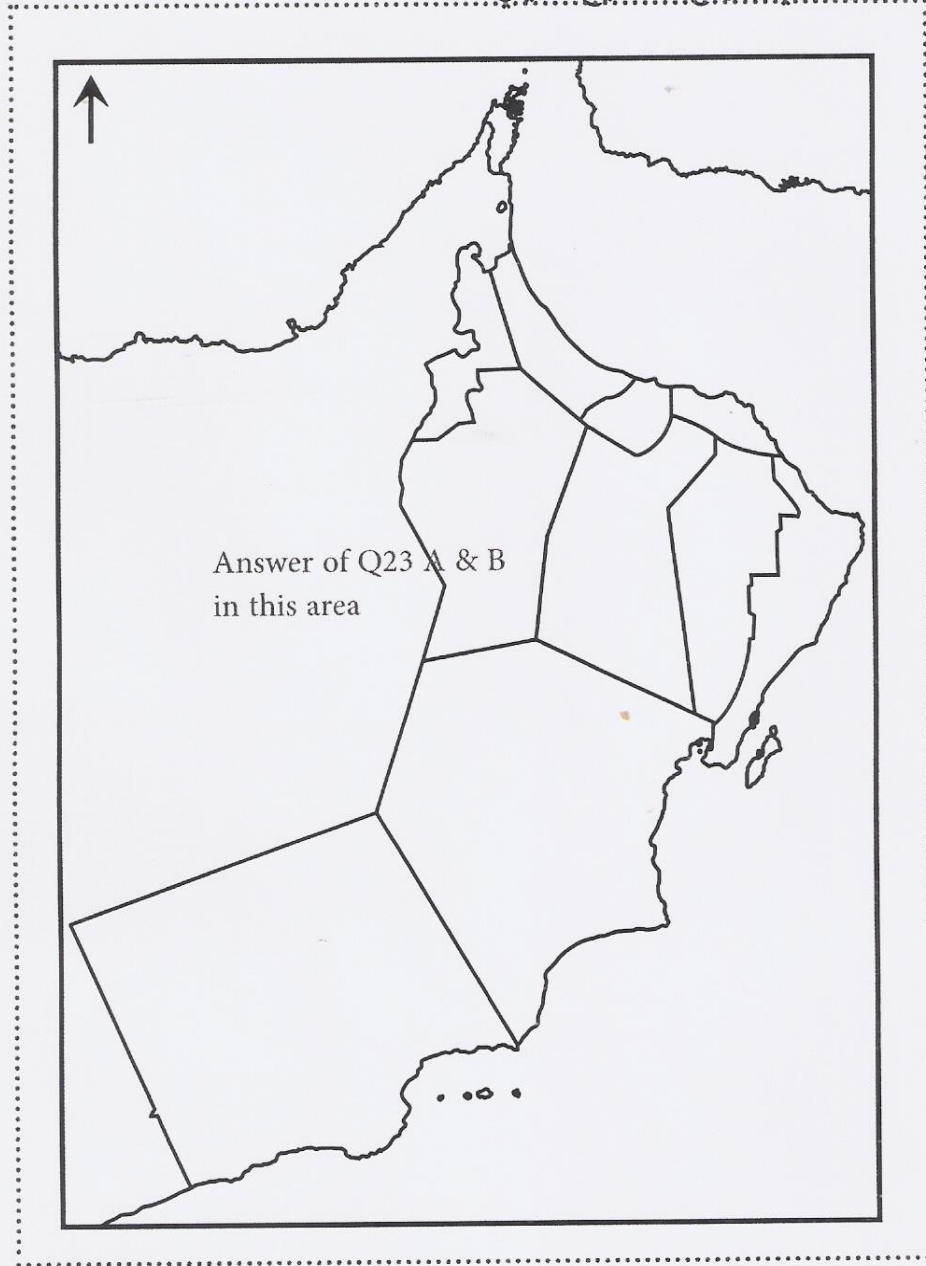
0, 2

PTO

لا تكتب في هذا الجزء

السؤال الرابع:

(٢٣) ضع على الخريطة في الموقع الصحيح ما يلي:



- أ. اسم المحافظة التي استضافت جولة دول مجلس التعاون الخليجي عام ٢٠٠٤م. 0, 2
- ب. خطأ يوضح بداية ونهاية حدود المنطقة البحرية الخاصة حسب تصنيف المنظمة البحرية الدولية عام ٢٠٠٢م. 0, 2

لا تكتب في هذا الجزء


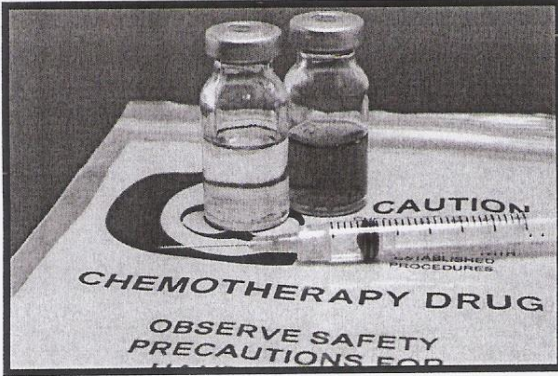
تابع السؤال الرابع:

Part 4 Q24 & Q25: one clip

٢٤) صنف الصور الآتية إلى مخلفات خطرة أو مخلفات غير خطرة.

0, 1, 2, 3, 4

لا تكتب في هذا الجزء

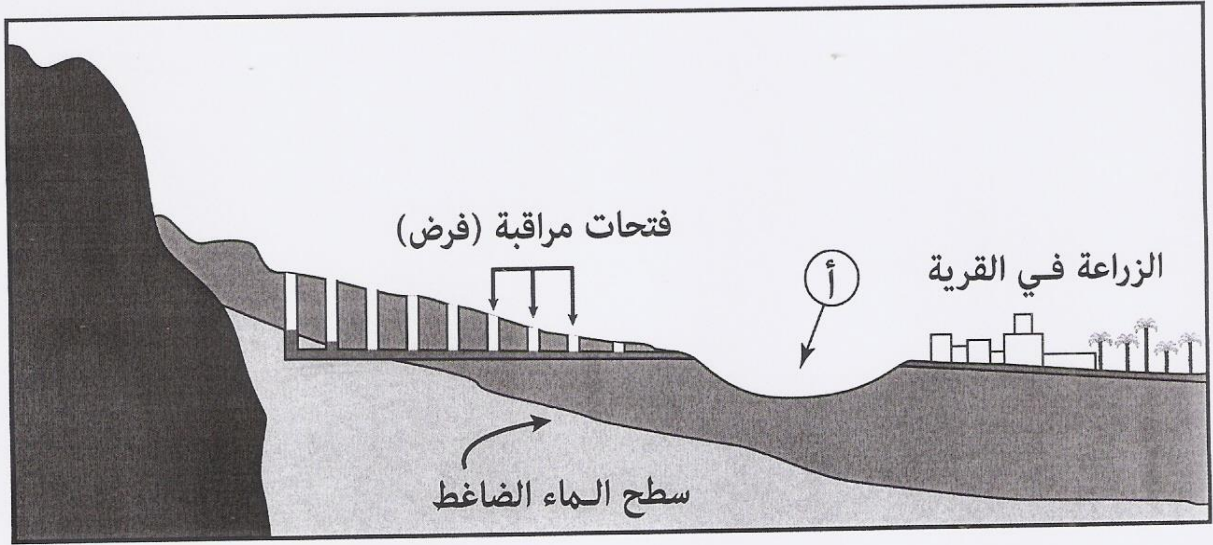


PTO

لا تكتب في هذا الجزء

تابع السؤال الرابع:

٢٥) ادرس مقطع عرضي لفلج داؤودي، ثم أجب عن الأسئلة التي تليه:



Q25 A MC manually marked: 0, 1

أ. حدّد نوع المياه التي يعتمد عليها الفلج الداؤودي .

جوفية. سطحية. (اختر الإجابة الصحيحة)

ب. استخلص القيمة الاقتصادية للفلج الموضحة في الشكل.

0, 1

ج. كيف تغلب العمانيون على المشكلة المشار إليها بالرمز (أ)؟

0, 1

لا تكتب في هذا الجزء

تابع السؤال الرابع:

Part4 Q26: one clip

(٢٦) "محمد شاب عماني يعيش في ولاية ساحلية تزخر بالثروة السمكية، فأراد بعد إنهائه دراسة دبلوم التعليم العام أن يفتح مصنعا لتعليب الأسماك، ولكن واجهته مشكلة تمويل مشروعه مالياً".

أ. ما المسار الذي سلكه محمد بعد إنهائه دراسة دبلوم التعليم العام؟

0, 1

ب. اذكر البرنامج الحكومي الذي يمكن أن يلجأ إليه محمد لتمويل مشروعه.

0, 1

ج. سمّ المجال الذي يتضمنه هذا المشروع ضمن الاستراتيجية الوطنية لحماية البيئة العمانية.

0, 1

انتهت الأسئلة مع تمنياتنا لكم بالتوفيق والنجاح

End of exam

لا تكتب في هذا الجزء

لا تكتب في هذا الجزء

مُسَوِّدَة

لا تكتب في هذا الجزء

نموذج إجابة امتحان دبلوم التعليم العام
للعام الدراسي ١٤٣٨/١٤٣٩ هـ - ٢٠١٧/٢٠١٨ م
الدور الأول - الفصل الدراسي الأول

المادة: الدراسات الاجتماعية (هذا وطني في العراقة والمجد) الدرجة الكلية: (٧٠) درجة.
تتبعه: نموذج الإجابة في (٨) صفحات.

إجابة السؤال الأول: مجموع درجاته (٢٨ درجة).

المفردة	الإجابة	الدرجة	الصفحة	مفتاح التصحيح								
١	النبوي.	٢	١٧	٢-٠								
٢	<table border="1"> <tr> <td>الموارث بن كعب</td> <td>١</td> </tr> <tr> <td>غسان بن عبدالله</td> <td>٢</td> </tr> <tr> <td>الصلت بن مالك</td> <td>٣</td> </tr> <tr> <td>عزان بن تميم</td> <td>٤</td> </tr> </table>	الموارث بن كعب	١	غسان بن عبدالله	٢	الصلت بن مالك	٣	عزان بن تميم	٤	٢	١٧	٢-٠
الموارث بن كعب	١											
غسان بن عبدالله	٢											
الصلت بن مالك	٣											
عزان بن تميم	٤											
٣		٢	٣٢	٢-٠								
٤	التفكك وانتشار الحروب الأهلية.	٢	٢٤	٢-٠								
٥	الجنوب الشرقي.	٢	١٦	٢-٠								
٦	الحيتان.	٢	٥٧	٢-٠								
٧		٢	٦٠	٢-٠								



(٢)

تابع: نموذج إجابة امتحان دبلوم التعليم العام
للعام الدراسي ١٤٣٨/١٤٣٩ هـ - ٢٠١٧/٢٠١٨ م

الدور الأول - الفصل الدراسي الأول
المادة: هذا وطني

تابع: إجابة السؤال الموضوعي:-

المفردة	الإجابة	الدرجة	الصفحة	مفتاح التصحيح
٨	<p>داؤودي عيني غيبي</p> <p>الداخلية الظاهرة</p>	٢	٧٤ / ٧٠	٢-٠
٩		٢	٧٣	٢-٠
١٠	الهند.	٢	١٠٨	٢-٠
١١	اليونسكو.	٢	٦٦	٢-٠
١٢	٢٠٠٦	٢	١٢٠	٢-٠
١٣		٢	١١٢	٢-٠
١٤	الحدائثة	٢	١٠٧	٢-٠



(٣)

تابع نموذج إجابة امتحان دبلوم التعليم العام
للعام الدراسي ١٤٣٨/١٤٣٩ هـ - ٢٠١٧/٢٠١٨ م
الدور الأول - الفصل الدراسي الأول
المادة : الدراسات الاجتماعية " هذا وطني "

إجابة السؤال الثاني: مجموع درجاته (١٤) درجة.

المفردة	الجزئية	الإجابة الصحيحة	الدرجة	الصفحة
١٥	-	الميد.	٢	١٩
معيار التصحيح		-		
مفتاح التصحيح		٢-٠		

المفردة	الجزئية	الإجابة الصحيحة	الدرجة	الصفحة
١٦	أ	- الأمن والاستقرار . - الازدهار الاقتصادي \ التجارة \ العلاقات التجارية . - التواصل الحضاري.	٢	٢٣
معيار التصحيح		تعتبر الاجابة صحيحة اذا شرح الطالب أحد الجوانب الثلاثة ويكتفى بمفردة واحدة.		
مفتاح التصحيح		٢-٠		

المفردة	الجزئية	الإجابة الصحيحة	الدرجة	الصفحة
١٦	ب	- تقييم الأنشطة الشبابية . - وضع الخطط الكفيلة بتطوير الأنشطة الشبابية والوصول بها إلى مستوى العالمية.	٢	١١١
معيار التصحيح		تعتبر اجابة الطالب صحيحة اذا كتب الطالب تطوير الانشطة الشبابية وصقل مواهبه يكتفى بمفردة واحدة.		
مفتاح التصحيح		٢-٠		

المفردة	الجزئية	الإجابة الصحيحة	الدرجة	الصفحة
١٧	أ	- دخول أهل عمان إلى الاسلام مبكرا / رضى الرسول عن أهل عمان/ حسن تعامل أهل عمان مع الرسل/ حسن أخلاق العمانيين/ إرسال الرسائل .	٢	١٥-١٤
معيار التصحيح		يكتفى بمفردة واحدة وبما يفيد المعنى.		
مفتاح التصحيح		٢-٠		

تابع نموذج إجابة امتحان دبلوم التعليم العام
للعام الدراسي ١٤٣٨/١٤٣٩ هـ - ٢٠١٧/٢٠١٨ م

الدور الأول - الفصل الدراسي الأول

المادة : الدراسات الاجتماعية " هذا وطني "

تابع إجابة السؤال الثاني:

الصفحة	الدرجة	الإجابة الصحيحة	الجزئية	المفردة
١٥-١٤	٢	<ul style="list-style-type: none"> - استقبال ملوك عمان جيفر وعبد ابني الجندي لعمر بن العاص وأبي زيد الأنصاري رسول الله بالاحترام وحسن المعاملة وتقبل الدعوة منهما. - استقبال أهل عمان لأبي زيد الأنصاري. - استقبال أهل عمان لعمر بن العاص. - استقبال أهل عمان خمس وفود من الرسول صلى الله عليه وسلم. 	ب	١٧
يكتفى بمفردة واحدة وبما يفيد المعنى.			معيار التصحيح	
٢-٠			مفتاح التصحيح	

الصفحة	الدرجة	الإجابة الصحيحة	الجزئية	المفردة
٦٦	٢	الإجابة على الخريطة.	أ	١٨
١١٤	١	الإجابة على الخريطة وتعتبر الإجابة صحيحة إذا كتب الطالب أمريكا (فقط).	ب	
٢٢	١		ج	
-			معيار التصحيح	
٤-٣-٢-١-٠			مفتاح التصحيح	

تابع نموذج إجابة امتحان دبلوم التعليم العام
للعام الدراسي ١٤٣٨/١٤٣٩ هـ - ٢٠١٧/٢٠١٨ م
الدور الأول - الفصل الدراسي الأول
المادة : الدراسات الاجتماعية " هذا وطني "



إجابة السؤال الثالث:

المفردة	الجزئية	الإجابة الصحيحة	الدرجة	الصفحة				
		<p>الأسطول</p> <table border="1"> <thead> <tr> <th>العصر الإسلامي</th> <th>العصر اليعربي</th> </tr> </thead> <tbody> <tr> <td>- تأمين الشواطئ والتجارة العمانية. - القضاء على قراصنة الميد. - تثبيت النظام السياسي في جزيرة سقطرى. - إنشاء سفن جديدة سريعة الحركة تعرف بالشذاة والغرف. - تأمين التجارة في المحيط الهندي.</td> <td>- ملاحقة البرتغاليين في المحيط الهندي والخليج العربي. - طرد البرتغاليين من شرقي أفريقيا. - محاربة البرتغاليين في الهند. - تأمين التجارة والملاحة في المحيط الهندي.</td> </tr> </tbody> </table>	العصر الإسلامي	العصر اليعربي	- تأمين الشواطئ والتجارة العمانية. - القضاء على قراصنة الميد. - تثبيت النظام السياسي في جزيرة سقطرى. - إنشاء سفن جديدة سريعة الحركة تعرف بالشذاة والغرف. - تأمين التجارة في المحيط الهندي.	- ملاحقة البرتغاليين في المحيط الهندي والخليج العربي. - طرد البرتغاليين من شرقي أفريقيا. - محاربة البرتغاليين في الهند. - تأمين التجارة والملاحة في المحيط الهندي.	٢	١٨ / ٢٢
العصر الإسلامي	العصر اليعربي							
- تأمين الشواطئ والتجارة العمانية. - القضاء على قراصنة الميد. - تثبيت النظام السياسي في جزيرة سقطرى. - إنشاء سفن جديدة سريعة الحركة تعرف بالشذاة والغرف. - تأمين التجارة في المحيط الهندي.	- ملاحقة البرتغاليين في المحيط الهندي والخليج العربي. - طرد البرتغاليين من شرقي أفريقيا. - محاربة البرتغاليين في الهند. - تأمين التجارة والملاحة في المحيط الهندي.							
١٩		<p>الحركة العلمية</p> <table border="1"> <thead> <tr> <th>العصر الإسلامي</th> <th>العصر اليعربي</th> </tr> </thead> <tbody> <tr> <td>- ارتحل العمانيون إلى العراق مثل جابر والربيع وساهموا في ازدهار الحركة العلمية والتأليف - تنوعت المؤلفات لتضم كتب الجوامع والتاريخ والأنساب - زيارة علماء غير عمانيين إلى عمان مثل أبي إسحاق إبراهيم بن قيس الحضرمي وعيسى بن إبراهيم الربيعي مؤلف كتاب الأمالي العمانية. - ظهور حملة العلم .</td> <td>- تأسيس المكتبات والمدارس العلمية - تحويل حصن جبرين إلى مدرسة علمية تخرج منها العلماء . - إنشاء المكتبات في الحصون كمكتبة دولة اليعاربة في حصن الرستاق. - ظهور عدد كبير من العلماء في شتى المجالات المعرفية.</td> </tr> </tbody> </table>	العصر الإسلامي	العصر اليعربي	- ارتحل العمانيون إلى العراق مثل جابر والربيع وساهموا في ازدهار الحركة العلمية والتأليف - تنوعت المؤلفات لتضم كتب الجوامع والتاريخ والأنساب - زيارة علماء غير عمانيين إلى عمان مثل أبي إسحاق إبراهيم بن قيس الحضرمي وعيسى بن إبراهيم الربيعي مؤلف كتاب الأمالي العمانية. - ظهور حملة العلم .	- تأسيس المكتبات والمدارس العلمية - تحويل حصن جبرين إلى مدرسة علمية تخرج منها العلماء . - إنشاء المكتبات في الحصون كمكتبة دولة اليعاربة في حصن الرستاق. - ظهور عدد كبير من العلماء في شتى المجالات المعرفية.	٢	١٦/٢٠ / ٢٤ /
العصر الإسلامي	العصر اليعربي							
- ارتحل العمانيون إلى العراق مثل جابر والربيع وساهموا في ازدهار الحركة العلمية والتأليف - تنوعت المؤلفات لتضم كتب الجوامع والتاريخ والأنساب - زيارة علماء غير عمانيين إلى عمان مثل أبي إسحاق إبراهيم بن قيس الحضرمي وعيسى بن إبراهيم الربيعي مؤلف كتاب الأمالي العمانية. - ظهور حملة العلم .	- تأسيس المكتبات والمدارس العلمية - تحويل حصن جبرين إلى مدرسة علمية تخرج منها العلماء . - إنشاء المكتبات في الحصون كمكتبة دولة اليعاربة في حصن الرستاق. - ظهور عدد كبير من العلماء في شتى المجالات المعرفية.							
	معيار التصحيح	يكتفى بوحدة في كل عصر للمجال الواحد وبما يفيد المعنى						
	مفتاح التصحيح	٤-٣-٢-١-٠						



(٦)
تابع نموذج إجابة امتحان دبلوم التعليم العام
للعام الدراسي ١٤٣٨/١٤٣٩ هـ - ٢٠١٧/٢٠١٨ م
الدور الأول - الفصل الدراسي الأول
المادة : الدراسات الاجتماعية " هذا وطني "

تابع إجابة السؤال الثالث:


المفردة	الجزئية	الإجابة الصحيحة	الدرجة	الصفحة
	أ	- تم في عهده توقيع أول اتفاقية للتقيب عن النفط في عُمان عام ١٩٢٥ م - التقيب عن النفط	٢	٣٤
٢٠	ب	- تعتبر إحدى مؤسسات التنشئة الاجتماعية الدينية/ وهي أهم الأسس في بناء الفرد عبر العصور التاريخية لفهم قيم ومبادئ الدين بشكل سليم / تقوم دور العبادة والمراكز التعليمية المرتبطة بها والأنشطة الدينية مثل المحاضرات والمسابقات بدور كبير في تقوية الجانب الوجداني مع الشباب وصقلهم ثقافياً.	٢	١٠٤
معيار التصحيح		- في الجزئية (أ) تعتبر الإجابة خاطئة اذا كتب الطالب استخراج النفط او تصدير النفط - لا يشترط كتابة السنة الميلادية، وفي الجزئية (ب) يكتفى بمفردة واحدة وبما يفيد المعنى.		
مفتاح التصحيح		٤-٢-٠		

المفردة	الجزئية	الإجابة الصحيحة	الدرجة	الصفحة
٢١	أ	- إعطاء الأولوية لتوفير مياه الشرب والأغراض المهمة . - سنّ القوانين المتعلقة بالمياه وحماية مواردها . - تنفيذ المشروع الوطني لحصر الآبار . - تنفيذ مشروع حصر الأفلاج . - إعلان مناطق جديدة لحماية حقول آبار إمدادات المياه لمختلف مناطق السلطنة . - إنشاء سدود التغذية الجوفية وسدود التخزين .	٢	٧٦+٧٥
معيار التصحيح		يكتفى باثنتين لكل مفردة درجة واحدة.		
مفتاح التصحيح		٢-١-٠		

المفردة	الجزئية	الإجابة الصحيحة	الدرجة	الصفحة
٢١	ب	- الاقتصادية . - السياسية . - الثقافية . - الاجتماعية .	٢	١٠٨
معيار التصحيح		يكتفى باثنتين لكل مفردة درجة واحدة وتعتبر اجابة الطالب خاطئة اذا ذكر أمثلة على أشكال العولمة.		
مفتاح التصحيح		٢-١-٠		

(٧)
تابع نموذج إجابة امتحان دبلوم التعليم العام
للعام الدراسي ١٤٣٨/١٤٣٩ هـ - ٢٠١٧/٢٠١٨ م
الدور الأول - الفصل الدراسي الأول
المادة: الدراسات الاجتماعية "هذا وطني"

النموذج المعتمد



تابع إجابة السؤال الثالث:

المفردة	الجزئية	الإجابة الصحيحة	الدرجة	الصفحة
٢٢	-	- إقامة مشاريع اقتصادية صغيرة تعتمد على رأس مال بسيط وتستفيد من موارد البيئة المتجددة. - المساهمة في الناتج المحلي (٥٧) مليون ريال عام ٢٠٠٤ م. - دعم الأمن الغذائي الوطني من خلال الاستفادة من التربة والمراعي والثروة الحيوانية. - زيادة كبيرة في عدد السياح الذين يزورون السلطنة للسياحة. - مساهمة الثروة السمكية في دعم الناتج المحلي.	٢	٥٧-٥٦
معيار التصحيح		يكتفى بدليل واحد.		
مفتاح التصحيح		٢-٠		

إجابة السؤال الرابع : مجموع درجاته (١٤) درجة.

المفردة	الجزئية	الإجابة الصحيحة	الدرجة	الصفحة
٢٣	أ	الإجابة في الخريطة.	٢	١١٥
	ب	الإجابة في الخريطة.	٢	٦٤
معيار التصحيح		يشترط بداية الخط من راس الحد الى حدود عمان مع اليمن وتعتبر إجابة الطالب صحيحة إذا بدأ من محافظة جنوب الشرقية حتى محافظة ظفار.		
مفتاح التصحيح		٤-٢-٠		







تابع نموذج إجابة امتحان دبلوم التعليم العام
للعام الدراسي ١٤٣٨/١٤٣٩ هـ - ٢٠١٧/٢٠١٨ م

الدور الأول - الفصل الدراسي الأول

المادة : الدراسات الاجتماعية " هذا وطني "



تابع إجابة السؤال الرابع :

الصفحة	الدرجة	الإجابة الصحيحة	الجزئية	المفردة
٦٣-٦٢	٤ لكل درجة	 <p>خطرة</p>  <p>غير خطرة</p>  <p>غير خطرة</p>  <p>خطرة</p>	-	٢٤
٤-٣-٢-١-٠			مفتاح التصحيح	

الصفحة	الدرجة	الإجابة الصحيحة	الجزئية	المفردة
٦٩ / ٧٣	١	الجوفية.	أ	٢٥
٧٣	١	ري المزروعات / ري الأراضي الزراعية/ الزراعة) توفير مياه الشرب/توفير مياه للاستخدام المنزلي	ب	
٧٣	١	عراق فلاح/ نظام السحارات.	ج	
في الجزئية (ب) يكتفى بواحدة في الجزئية (ج) تعتبر إجابة الطالب صحيحة إذا وصف الظاهرة أو كتب المسمى صحيحا على الشكل.			معياري التصحيح	
٣-٢-١-٠			مفتاح التصحيح	

الصفحة	الدرجة	الإجابة الصحيحة	الجزئية	المفردة
١١٨	١	مسار العمل / التوجه إلى المهنة/ العمل الحر.	أ	٢٦
١١٨	١	انطلاقة / سند / رفد\ صندوق تنمية مشروعات الشباب\ صندوق دعم مشروعات المؤسسات الصغيرة والمتوسطة	ب	
٦١	١	الثروة السمكية.	ج	
في الجزئية (أ) و (ج) (بما يفيد المعنى من ضمن السياق)			معياري التصحيح	
٣-٢-١-٠			مفتاح التصحيح	

نهاية نموذج الإجابة